



宮っ子学力  
ステップアップシート

りょう・形 3年 第2回

3年

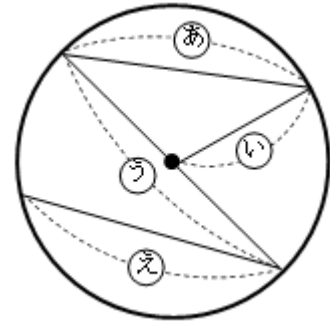
組 番

氏名

☆ 次の問題に答えましょう。

- (1) 右の図で、この円の直径を表している  
直線はどれでしょうか。

①～⑤から1つえらんで、その記号を  
ましょう。



- (2) 円の真ん中の点を、何というでしょうか。

- (3) 直径が12cmの円の半径は、何cmでしょうか。

☆ 次の長さを、( )の中の単位で表しましょう。

- (4) 4kg (g)

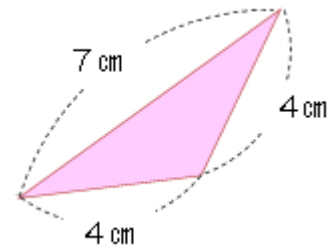
- (5) 3260g (kg, g)



うらへつづきます。

☆ 次の問題に答えましょう。

(6) 右の図の三角形の名前を書きましょう。

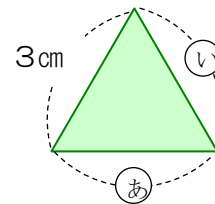


(7) 右の図の三角形は，正三角形です。

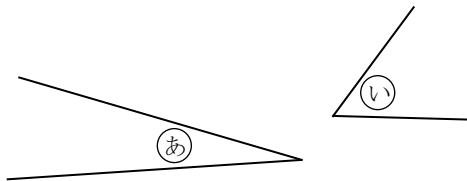
㊤，㊥の辺の長さは何cmでしょうか。

㊤

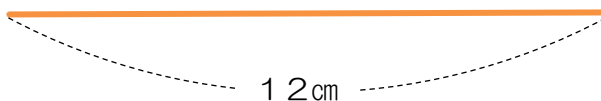
㊥



(8) ㊤㊥のどちらの角が大きいでしょうか。



(9) ひもを使って，まわりの長さが12 cmの正三角形をつくると，  
1つの辺の長さは何cmになるでしょうか。



☆ 次の問題に答えましょう。

(10) 次の図は，同じ大きさの2つのボールがぴったり入っている箱を  
真上からみた様子です。ボールの半径は何cmでしょうか。

